


JUGANDO A CREAR




Applebee's

LO QUE
TENEMOS EN
COMUN

¿Sabías que hay muchos inventos que han cambiado nuestra forma de vivir? Niños como tú se imaginaron cosas nuevas y sus inventos han cambiado al mundo ¿Te imaginas vivir sin ellos?

¿cómo sería el mundo sin...?

Une las siguientes columnas que correspondan con cada invento.

El teléfono.

No podríamos escribir en nuestras libretas.

El auto.

No tendríamos bicicletas, patines ni carritos de juguete.

El foco.

No podríamos comunicarnos con amigos que vivan lejos.

El lápiz.

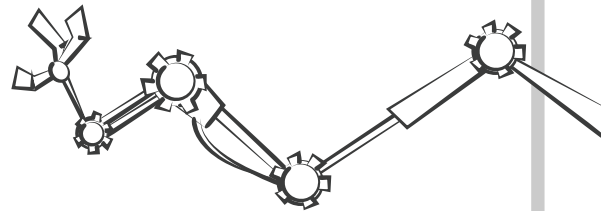
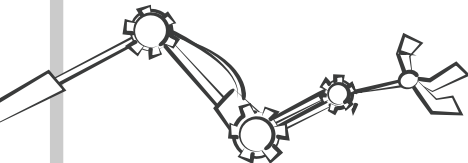
No tendríamos Internet o juegos.

La rueda.

No tendríamos luz en casa.

La computadora.

Iríamos caminando a todas partes.



INVENTOS

Todos estos objetos hacen nuestra vida más fácil. Ahora escoge del banco de palabras el nombre del invento y escríbelo sobre la línea ¡También puedes darles color!






TELÉFONO

CÁMARA

AVIÓN

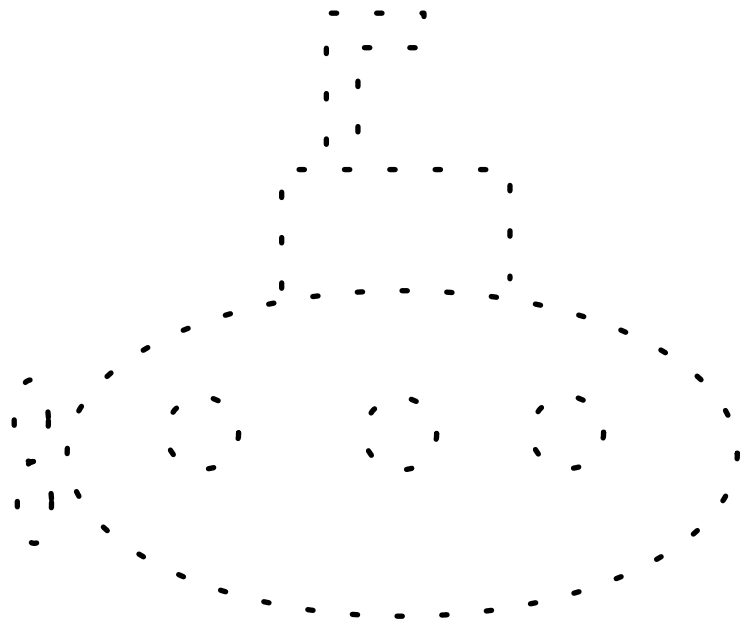
COMPUTADORA

BICICLETA



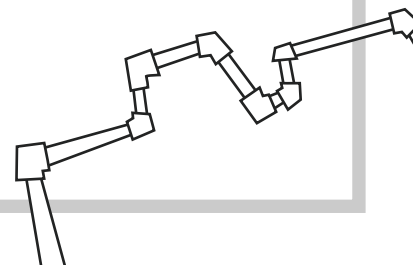
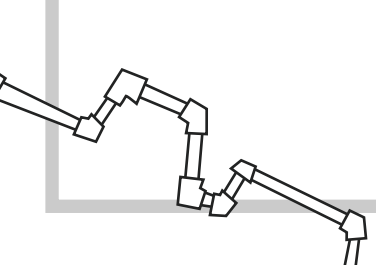
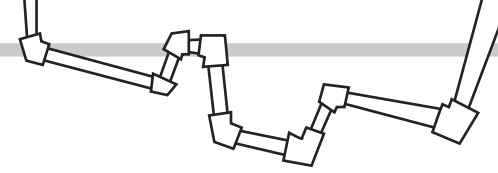
20,000 leguas de diversión

Une los puntos, encuentra el invento escondido y colorea a tu gusto.



inventa el mañana

Piensa en algo que puedas realizar para cambiar el mundo y dibújalo en esta página



CRUCIGRAMA

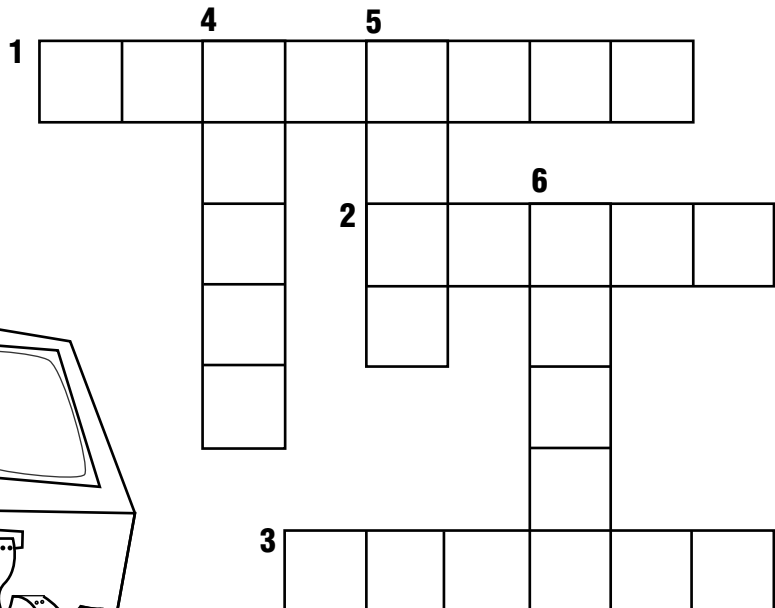

Responde este crucigrama con el nombre de los inventos.

HORIZONTAL

1. Se utiliza para hacer llamadas a corta o larga distancia.
2. Nos lleva a la escuela, a la casa y a todas partes.
3. Sirve para tomar fotografías.

VERTICAL

4. Lo utilizamos para escribir.
5. Nos da luz en todas partes.
6. Es una parte importante de las bicicletas, carros y patines.



Mensaje oculto

Descubre el mensaje oculto, reemplazando los números por las letras.

$\frac{N}{3 \quad 16 \quad 14}$ $\frac{\quad}{13 \quad 9 \quad 20}$

$\frac{E}{9 \quad 14 \quad 23 \quad 5}$ $\frac{\quad}{14 \quad 21 \quad 16 \quad 20}$

$\frac{U}{17 \quad 22 \quad 5 \quad 4 \quad 16}$ $\frac{\quad}{3 \quad 1 \quad 13 \quad 2 \quad 9 \quad 1 \quad 19}$

$\frac{\quad}{5 \quad 12}$ $\frac{D}{13 \quad 22 \quad 14 \quad 4 \quad 16}$

1	2	3	4	5	6	7	8	9	10	11	12	13	14	15
A	B	C	D	E	F	G	H	I	J	K	L	M	N	Ñ
16	17	18	19	20	21	22	23	24	25	26	27			
O	P	Q	R	S	T	U	V	W	X	Y	Z			



MENÚ DE NIÑOS

